

Şekillerle gösterilen toplama işlemlerinin sonuçlarını bulup yazalım

1.  +  =



2.  +  =

3.  +  =

4.  +  =

5.  +  =


6.  +  =



7.  +  =

8.  +  =

9.  +  =

10.  +  =

11.  +  =

12.  +  =


13.  +  =



14.  +  =

15.  +  =

16.  +  =

17.  +  =

18.  +  =

19.  +  =

20.  +  =

